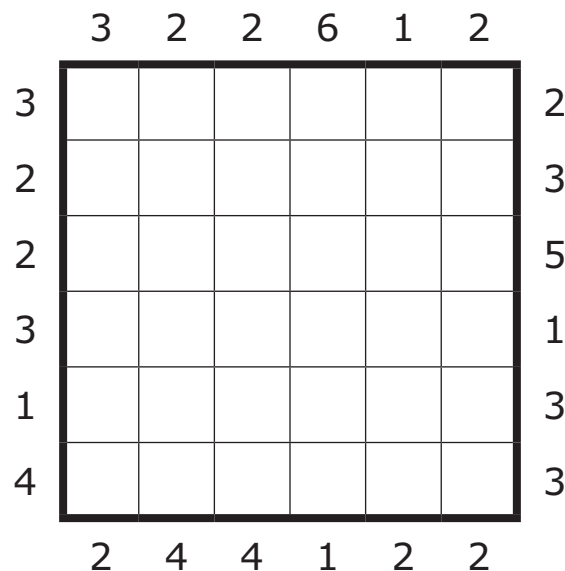
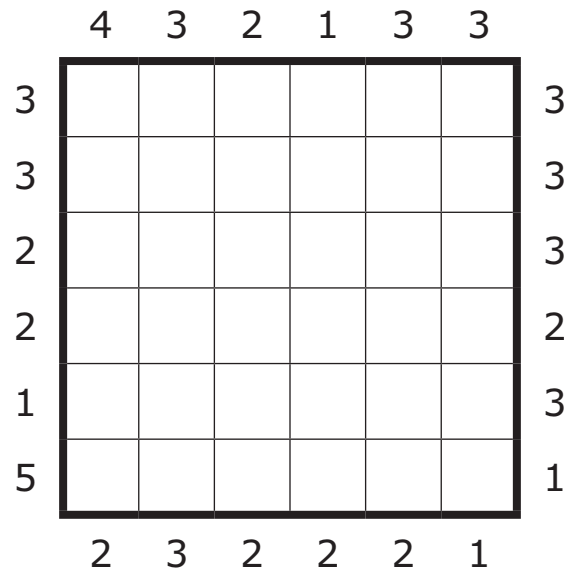


Flats

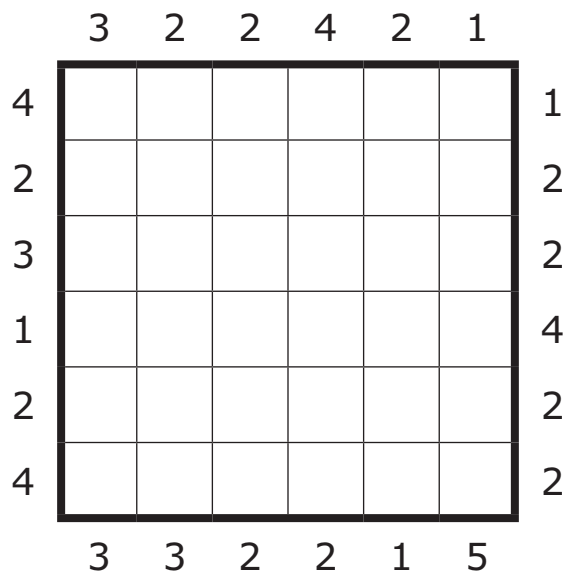
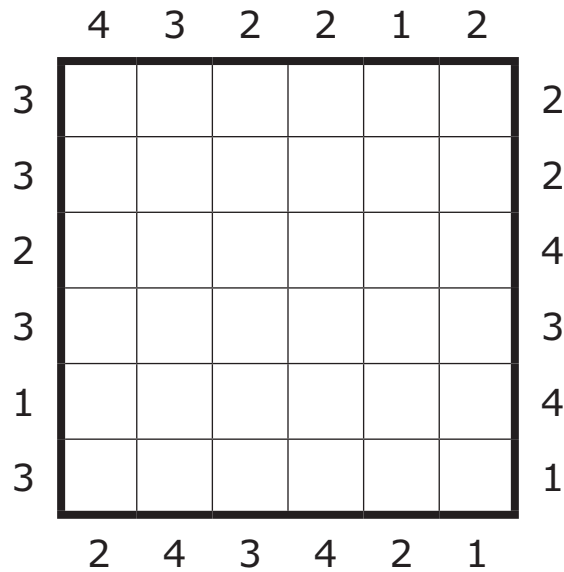
Plaats de cijfers 1 tot en met 6 in elke rij en elke kolom. Elk cijfer stelt een flatgebouw voor met precies zoveel verdiepingen als het cijfer. De aanwijzingen buiten het diagram geven aan hoeveel flatgebouwen je kunt zien als je vanaf die kant het diagram inkijkt, waarbij een flatgebouw met meer verdiepingen het zicht ontnemt op eentje met minder verdiepingen.



Flats

Plaats de cijfers 1 tot en met 6 in elke rij en elke kolom. Elk cijfer stelt een flatgebouw voor met precies zoveel verdiepingen als het cijfer.

De aanwijzingen buiten het diagram geven aan hoeveel flatgebouwen je kunt zien als je vanaf die kant het diagram inkijkt, waarbij een flatgebouw met meer verdiepingen het zicht ontnemt op eentje met minder verdiepingen.



Oplossingen

	4	3	2	1	3	3	
3	2	1	5	6	4	3	3
3	3	4	6	2	5	1	3
2	5	6	3	4	1	2	3
2	4	3	2	1	6	5	2
1	6	5	1	3	2	4	3
5	1	2	4	5	3	6	1
	2	3	2	2	2	1	

	3	2	2	6	1	2	
3	3	4	2	1	6	5	2
2	5	1	6	2	4	3	3
2	4	6	5	3	2	1	5
3	2	5	1	4	3	6	1
1	6	3	4	5	1	2	3
4	1	2	3	6	5	4	3
	2	4	4	1	2	2	

	4	3	2	2	1	2	
3	2	1	4	3	6	5	2
3	3	5	2	6	1	4	2
2	5	6	1	4	3	2	4
3	1	4	6	5	2	3	3
1	6	3	5	2	4	1	4
3	4	2	3	1	5	6	1
	2	4	3	4	2	1	

	3	2	2	4	2	1	
4	3	4	2	1	5	6	1
2	4	6	1	3	2	5	2
3	1	5	6	2	3	4	2
1	6	1	3	5	4	2	4
2	5	2	4	6	1	3	2
4	2	3	5	4	6	1	2
	3	3	2	2	1	5	