



15 OKTOBER 2018










**ZEESLAG**

Plaats de gegeven vloot in het diagram, waarbij elk scheepssegment de grootte van één vakje heeft. De schepen liggen horizontaal of verticaal en ze raken elkaar nergens, **ook niet diagonaal**. Aanwijzingen buiten het diagram geven aan hoeveel scheepsdelen er in de betreffende rij of kolom te vinden zijn.

**BATTLESHIPS**

Place the given fleet in the grid, with every ship segment filling a single cell. Ships are placed horizontally or vertically, and do not touch each other, **not even diagonally**. Clues outside the grid indicate how many cells are occupied by ship segments.

	2	1	3	4	2	3	2	2	1
3									
4									
1									
2									
2									
3									
1									
1									
3									

By Richard Stolk



Puzzle ID: #2044